







Problem 1 fir déi kleng Hiesercher:

De Mathemetty buddelt een Tunnel am Gaart fir bei d'Ouschteree ze kommen.

Den Tunnel ass ee Feld breed, kräizt a beréiert sech selwer net. D'Zuelen uewen a lénks vum Feld ginn u wéi vill Stécker Tunnel an all Kolonn respektiv Rei solle kommen (Startfeld an Endfeld abegraff). De Mathemetty duerf nët diagonal gruewen.

Beispill:

	2	1	4	1	4
1					
4					
2					
2					
3					



	2	1	4	1	4
1					
4					
2					
2					
3					

Zeechen dem Mathemetty säin Tunnel am Gaart.

Du brauchst NET ze schreiwen, wéi s du virgaang bass.

(D'Richtung an déi de Mathemetty ufänkt mat gruewen ass schon ugin)

Fir ze probéieren:

	3	3	5	2	4	6	2	2	5
4									
2									
3									
2									
6									
4									
3									
3									
5									

Numm:




Virnumm:

Klass:

Kategorie: ☐ klengen Hieschen

☐ groussen Hieschen

☐ alen Hues

	3	3	5	2	4	6	2	2	5
4									
2									
3									
2									
6									
4									
3									
3									
5									