





Problem 1 fir déi grouss Hiesercher:

De Mathemetty buddelt een Tunnel am Gaart fir bei d'Ouschteree ze kommen.

Den Tunnel ass ee Feld breed, kräizt a beréiert sech selwer net. D'Zuelen uewen a lénks vum Feld ginn u wéi vill Stécker Tunnel an all Kolonn respektiv Rei solle kommen (Startfeld an Endfeld abegraff). De Mathemetty duerf nët diagonal gruewen.

Beispill:



	2	1	4	1	4
1					
4					
2					
2					
3					

	2	1	4	1	4
1					
4					
2					
2					
3					

Zeechen dem Mathemetty säin Tunnel am Gaart.

Du brauchst NET ze schreiwen, wéi s du virgaang bass.

Fir ze probéieren:

	7	6	3	4	4	5	3	5	3
3									
6									
4									
2									
4									
5									
3									
5									
8									

Numm:



Virnumm:

Klass:

Kategorie: ☐ klengen Hieschen

☐ groussen Hieschen

☐ alen Hues

	7	6	3	4	4	5	3	5	3
3									
6									
4									
2									
4									
5									
3									
5									
8									