

Code branche <b>MATHE I</b>	Ministère de l'Éducation nationale et de la Formation professionnelle EXAMEN DE FIN D'ÉTUDES SECONDAIRES TECHNIQUES Régime technique – Division technique générale Session 2012/2013	
Épreuve écrite	Branche	Section
Durée épreuve 3 heures	Mathématiques I	GE / GI
Date épreuve 23 mai 2013		

**Question 1** (4+2+2=8 points)

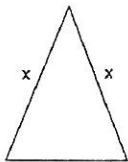
Démontrer :

- 1) Pour tout réel  $a$  et tout réel  $b$ ,  $\exp(a + b) = \exp a \cdot \exp b$ .
- 2) Pour tous réels  $a > 0$  et  $b > 0$ ,  $\ln ab = \ln a + \ln b$ .
- 3) Pour tout entier  $n, n \geq 1$ ,  $\lim_{x \rightarrow +\infty} \frac{e^x}{x^n} = +\infty$ .

**Question 2** (4+3=7 points)

Un triangle isocèle a un périmètre de 1 dm.

La mesure des deux côtés de même longueur est  $x$  (en dm).



- 1) Indiquer les valeurs possibles de  $x$  (déterminer le domaine sans justification)

et montrer que l'aire du triangle est donnée par  $A(x) = \left(\frac{1}{2} - x\right) \sqrt{x - \frac{1}{4}}$ .

- 2) Déterminer  $x$  pour que l'aire du triangle soit maximale.



**Question 3** (3 points)

Soient  $a$  et  $b$  deux réels. On note  $f$  la fonction définie sur  $\mathbb{R} - \{-1\}$  par  $f(x) = \frac{x^2 + ax + b}{x + 1}$

et  $C$  sa courbe représentative dans un repère orthonormal.

Déterminer les réels  $a$  et  $b$  tels que la tangente à  $C$  au point d'abscisse 0 ait pour équation :  $y = -4x + 1$ .

**Question 4** (2 points)

Résoudre dans  $\mathbb{R}$  l'équation suivante :  $e^x + 6e^{-x} = 5$ .

**Question 5** (2+3+4+3=12 points)

$f$  est la fonction définie sur  $I = ]-1; +\infty[$  par  $f(x) = x + 1 - \ln \frac{x+1}{x+3}$  et  $C$  est sa courbe représentative dans un repère orthonormal  $(0; \vec{i}, \vec{j})$  (unité : 2 cm).

- 1) Déterminer les limites de  $f$  aux bornes de  $I$  et interpréter graphiquement.
- 2) Montrer que la droite  $d$  d'équation  $y = x + 1$  est asymptote oblique à  $C$ , puis étudier la position de  $C$  par rapport à  $d$ .
- 3) Dresser le tableau de variations de  $f$ .
- 4) Tracer  $d$  et  $C$ .

**Question 6** (3+1+7=11 points)

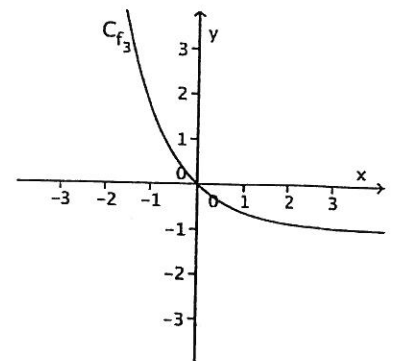
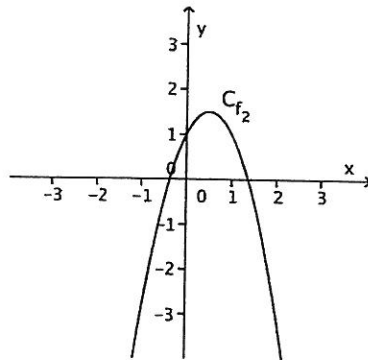
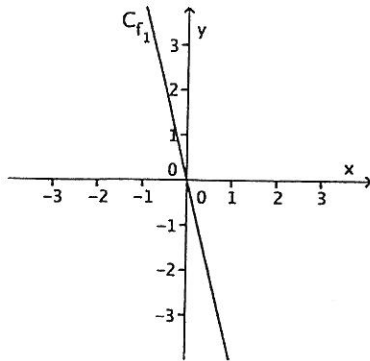
$f$  est la fonction définie sur  $\mathbb{R}$  par  $f(x) = x + (1 - x)e^{2x}$ .

- 1) Calculer les limites de  $f$  en  $-\infty$  et en  $+\infty$ .
- 2) Calculer la dérivée de  $f$ .
- 3) Dresser le tableau de variations de  $f$ .

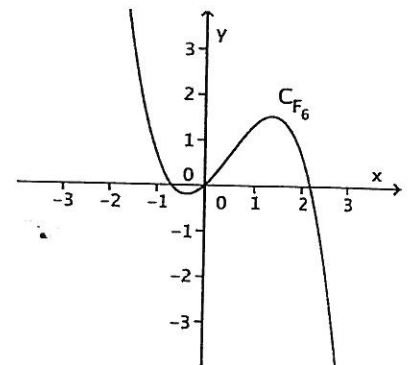
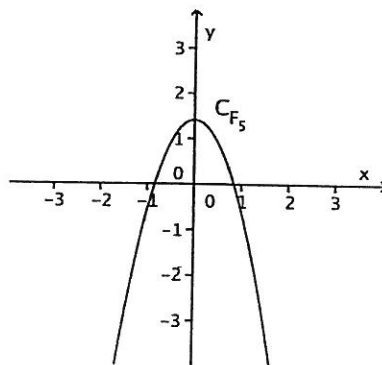
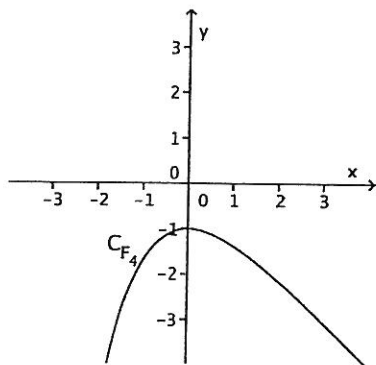


**Question 7 (2 points)**

Voici les représentations graphiques de trois fonctions :



Les graphiques suivants représentent des primitives des trois premières fonctions :



Associer chaque graphique des fonctions  $f_1$ ,  $f_2$  et  $f_3$  au graphique d'une de ses primitives. Justifier.

**Question 8 (3+1=4 points)**

Soient les intégrales suivantes :

$$I = \int_0^{\frac{\pi}{8}} \frac{\cos 2x}{\sin 2x + \cos 2x} dx \quad \text{et} \quad J = \int_0^{\frac{\pi}{8}} \frac{\sin 2x}{\sin 2x + \cos 2x} dx$$

- 1) Calculer  $I + J$  et  $I - J$ .
- 2) En déduire les valeurs exactes de  $I$  et de  $J$ .

**Question 9 (4 points)**

Calculer l'intégrale suivante à l'aide d'une double intégration par parties :

$$K = \int_0^{-\pi} e^{-x/2} \sin x dx.$$



**Question 10** (3+4=7 points)

Soit  $f$  la fonction définie sur  $]-\infty; 3[$  par  $f(x) = \frac{x^2+2x}{3-x}$ .

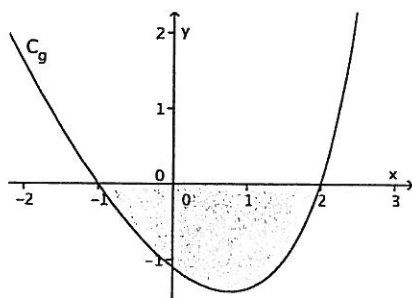
1) Déterminer les réels  $a, b$  et  $c$  tels que, pour tout  $x < 3$ ,  $f(x) = ax + b + \frac{c}{3-x}$ .

En déduire une primitive  $F$  de  $f$  sur  $]-\infty; 3[$ .

2)  $g$  est la fonction définie sur  $]-\infty; 3[$  par  $g(x) = -(x+1)\ln(3-x)$ .

Ci-dessous on a représenté une partie de sa courbe dans un repère orthonormal.

A l'aide d'une intégration par parties et en utilisant les résultats précédents, calculer, en u.a., l'aire du domaine gris.



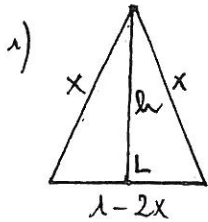
# Corrigé de l'épreuve de mathématiques I

1/7

## Question 1 (4+2+2 = 8 p.)

- 1) th. 3 p. 88
- 2) th. 3 p. 118
- 3) th. 5 p. 150

## Question 2 (4+3 = 7 p.)



$$x \in ]\frac{1}{4}; \frac{1}{2}[$$

La base du triangle isocèle mesure  $1-2x$  (en dm).

Soit  $h$  la mesure de la hauteur en dm.

La hauteur partage le triangle isocèle en deux triangles rectangles symétriques.

Aire du triangle:  $A = \frac{(1-2x) \cdot h}{2} = (\frac{1}{2} - x) \cdot h$

Or (Pythagore):  $h^2 = x^2 - (\frac{1-2x}{2})^2 = x^2 - \frac{1}{4}(1-4x+4x^2)$   
 $= -\frac{1}{4} + x > 0$

Donc  $h = \sqrt{-\frac{1}{4} + x}$  et  $A(x) = (\frac{1}{2} - x) \cdot \sqrt{x - \frac{1}{4}}$ .

2)  $\forall x \in ]\frac{1}{4}; \frac{1}{2}[ : A'(x) = -\sqrt{x - \frac{1}{4}} + (\frac{1}{2} - x) \cdot \frac{1}{2\sqrt{x - \frac{1}{4}}}$

$$= \frac{-2(x - \frac{1}{4}) + \frac{1}{2} - x}{2\sqrt{x - \frac{1}{4}}}$$

$$= \frac{-3x + 1}{2\sqrt{x - \frac{1}{4}}}$$

$> 0$

x	$\frac{1}{4}$	$\frac{1}{3}$	$\frac{1}{2}$		
$A'(x)$		+	0	-	
A		$A(\frac{1}{3})$ MAX			

L'aire est donc maximale pour  $x = \frac{1}{3}$  dm (triangle équilatéral).



Question 3 (3 p.)

2/7

To a pour equation  $y = -4x + 1$  ssi  $f'(0) = -4$  et  $f(0) = 1$ .

$$\begin{aligned} \text{Or, } \forall x \in \mathbb{R} - \{-1\} : f'(x) &= \frac{(2x+a)(x+1) - (x^2+ax+b)}{(x+1)^2} \\ &= \frac{2x^2 + 2x + ax + a - x^2 - ax - b}{(x+1)^2} \\ &= \frac{x^2 + 2x + a - b}{(x+1)^2} \end{aligned}$$

$$\text{Donc: } \begin{cases} f'(0) = -4 \\ f(0) = 1 \end{cases} \Leftrightarrow \begin{cases} a - b = -4 \\ b = 1 \end{cases} \Leftrightarrow \boxed{\begin{cases} a = -3 \\ b = 1 \end{cases}}$$

Question 4 (2 p.)

$$e^x + 6e^{-x} = 5 \quad ; \quad \mathcal{D} = \mathbb{R}$$

$$\forall x \in \mathbb{R} : e^x + 6e^{-x} = 5 \quad | \cdot e^x > 0$$

$$\Leftrightarrow (e^x)^2 + 6 = 5e^x$$

$$\Leftrightarrow (e^x)^2 - 5e^x + 6 = 0 \quad (E)$$

Posons  $e^x = y$  ( $y > 0$ ).

$$y^2 - 5y + 6 = 0 \quad ; \quad \Delta = 1 \quad ; \quad y_1 = 2 \quad ; \quad y_2 = 3$$

$$\text{Donc : } (E) \Leftrightarrow e^x = 2 \text{ ou } e^x = 3$$

$$\Leftrightarrow x = \ln 2 \text{ ou } x = \ln 3$$

$$S = \{ \ln 2 ; \ln 3 \}$$

Question 5 (2+3+4+3 = 12 p.)

$$1) \lim_{x \rightarrow (-1)^+} f(x) = \lim_{x \rightarrow (-1)^+} \underbrace{(x+1)}_{\rightarrow 0} - \lim_{x \rightarrow (-1)^+} \underbrace{\ln \left( \frac{x+1}{x+3} \right)}_{\rightarrow -\infty} = +\infty$$

$$\boxed{\text{A.V.: } x = -1}$$

$$\lim_{x \rightarrow +\infty} f(x) = \lim_{x \rightarrow +\infty} \underbrace{(x+1)}_{\rightarrow +\infty} - \lim_{x \rightarrow +\infty} \underbrace{\ln \left( \frac{x+1}{x+3} \right)}_{\rightarrow 0} = +\infty$$

(pas d'A.V. en  $+\infty$ )



$$2) \lim_{x \rightarrow +\infty} [f(x) - (x+1)] = \lim_{x \rightarrow +\infty} \left[ -\ln \left( \frac{x+1}{x+3} \right) \right] = 0$$

3/7

Donc  $d$  est A.O. à  $C$  en  $+\infty$ .

Position de  $C$  par rapport à  $d$ :

$$\forall x \in ]-1; +\infty[ : f(x) - (x+1) = -\ln \frac{x+1}{x+3}$$

$$\forall x \in ]-1; +\infty[ : x+1 < x+3 \quad | : (x+3) > 0 \text{ sur } ]-1; +\infty[$$

$$\Leftrightarrow \frac{x+1}{x+3} < 1$$

$> 0 \text{ sur } I$

$$\Leftrightarrow \ln \frac{x+1}{x+3} < 0$$

$$\Leftrightarrow -\ln \frac{x+1}{x+3} > 0$$

$C$  est donc au-dessus de  $d$ .

$$3) \forall x \in I : f'(x) = 1 - \frac{x+3}{x+1} \cdot \frac{x+3-(x+1)}{(x+3)^2}$$

$$= 1 - \frac{2}{(x+1)(x+3)}$$

$$= \frac{x^2 + 4x + 3 - 2}{(x+1)(x+3)}$$

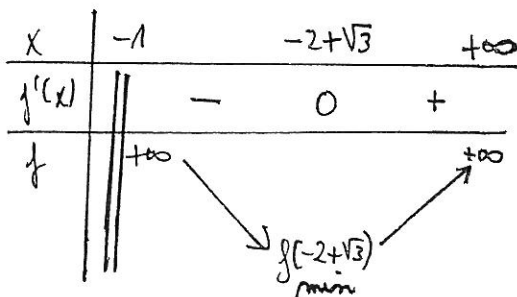
$$= \frac{x^2 + 4x + 1}{(x+1)(x+3)}$$

$> 0$

$$f'(x) = 0 \Leftrightarrow x^2 + 4x + 1 = 0$$

$$\Delta = 12 \quad x_1 = -2 - \sqrt{3} < -1 : \text{à écarter}$$

$$x_2 = -2 + \sqrt{3} \approx -0,27 \in I$$



$$f(-2 + \sqrt{3}) = -1 + \sqrt{3} - \ln \frac{-1 + \sqrt{3}}{1 + \sqrt{3}}$$

$$= -1 + \sqrt{3} - \ln \frac{-1 + 2\sqrt{3} - 3}{-2}$$

$$= -1 + \sqrt{3} - \ln(2 - \sqrt{3})$$

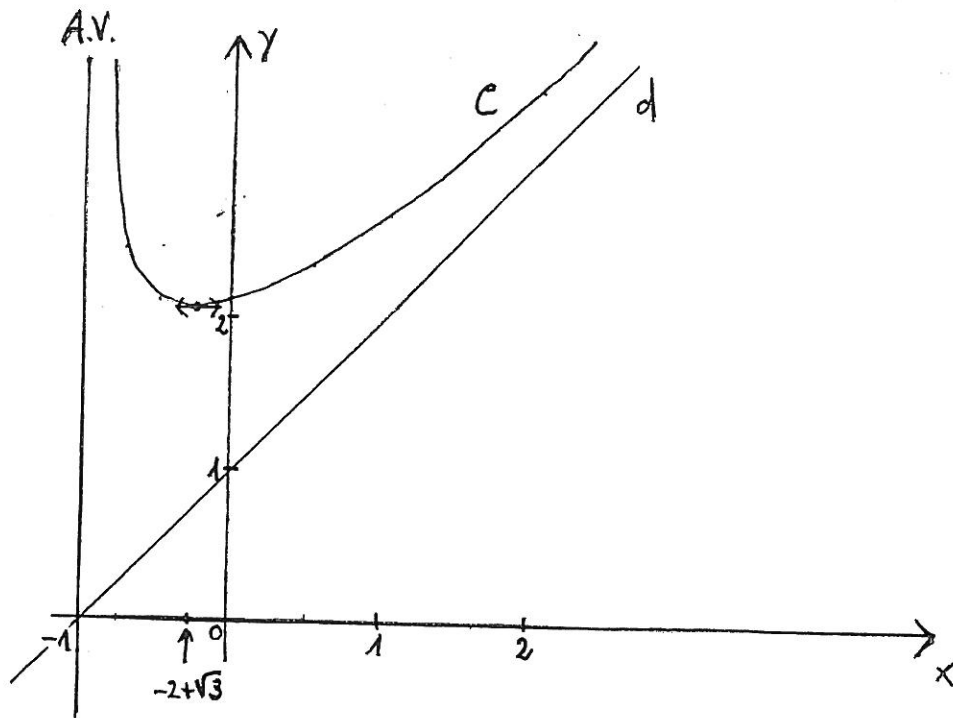
$$\approx 2,05$$



4)

$x$	$-0,75$	$-0,5$	$\approx -0,27$ $-2+\sqrt{3}$	$0$	$0,5$	$1$	$2$
$f(x)$	$\approx 2,45$	$\approx 2,11$	$\approx 2,05$	$1+\ln 3$ $\approx 2,1$	$\approx 2,35$	$\approx 2,69$	$\approx 3,51$

4/7



Question 6 (3+1+7 = 11 p.)

$$1) \lim_{x \rightarrow -\infty} f(x) = \lim_{x \rightarrow -\infty} \left[ x + \underbrace{(1-x)}_{\rightarrow -\infty} \underbrace{e^{2x}}_{\rightarrow 0} \right] = \lim_{x \rightarrow -\infty} \left( x + e^{2x} - \frac{1}{2} \cdot 2x e^{2x} \right)$$

f.l.: « $\infty \cdot 0$ »

$$= -\infty$$

$$\lim_{x \rightarrow +\infty} f(x) = \lim_{x \rightarrow +\infty} \left[ x + \underbrace{(1-x)}_{\rightarrow -\infty} \underbrace{e^{2x}}_{\rightarrow +\infty} \right] = \lim_{x \rightarrow +\infty} \left[ x \cdot \left( 1 + \frac{1-x}{x} e^{2x} \right) \right] = -\infty$$

f.l.: « $+\infty - \infty$ »

ou:  $\lim_{x \rightarrow +\infty} f(x) = \dots = \lim_{x \rightarrow +\infty} (x + e^{2x} - x e^{2x}) = \lim_{x \rightarrow +\infty} \left[ e^{2x} \left( \frac{x}{e^{2x}} + 1 - x \right) \right] = -\infty$

$$\left( \lim_{x \rightarrow +\infty} \frac{x}{e^{2x}} = \lim_{x \rightarrow +\infty} \frac{1}{2 \cdot \frac{e^{2x}}{2x}} = 0 \right)$$

$$2) \forall x \in \mathbb{R}: f'(x) = 1 + (-1) \cdot e^{2x} + (1-x) \cdot 2e^{2x}$$

$$= 1 - e^{2x} + 2e^{2x} - 2xe^{2x}$$

$$= 1 + e^{2x} - 2xe^{2x}$$

$$= 1 + e^{2x} (1 - 2x)$$





### 3) Signe de $f'$ ?

5/7

Posons  $g(x) = 1 + e^{2x}(1-2x)$ .

$D_g = \mathbb{R}$

$$\begin{aligned} \forall x \in \mathbb{R}: g'(x) &= 2e^{2x}(1-2x) + e^{2x} \cdot (-2) \\ &= 2e^{2x}(1-2x-1) \\ &= -4x \underbrace{e^{2x}}_{>0} \end{aligned}$$

$x$	$-\infty$	0	$d$	$+\infty$
$g'(x)$		+	0	-
$g$		1	2	$-\infty$

$g(0) = 1 + 1 \cdot (1 - 0) = 2$

$$\lim_{x \rightarrow -\infty} g(x) = \lim_{x \rightarrow -\infty} \left[ \underbrace{1}_{\rightarrow 0} + \underbrace{e^{2x}}_{\rightarrow +\infty} \underbrace{(1-2x)}_{\rightarrow +\infty} \right] = \lim_{x \rightarrow -\infty} \left( \underbrace{1}_{\rightarrow 0} + \underbrace{2xe^{2x}}_{\rightarrow 0} \right) = 1$$

f.i.: « $0 \cdot \infty$ »

$$\lim_{x \rightarrow +\infty} g(x) = \lim_{x \rightarrow +\infty} \left[ \underbrace{1}_{\rightarrow +\infty} + \underbrace{e^{2x}}_{\rightarrow -\infty} \underbrace{(1-2x)}_{\rightarrow -\infty} \right] = -\infty$$

$\forall x \in ]-\infty; 0]: g(x) > 0$

$g$  est continue et strictement  $\downarrow$  sur  $]0; +\infty[$ :  $g(]0; +\infty[) = ]-\infty; 2[$ .  
 $0 \in ]-\infty; 2[$ , donc  $g(x) = 0$  a exactement une solution  $d$  dans  $]0; +\infty[$ .

$$\left. \begin{aligned} g(0) &> 0 \\ g(1) &= 1 - e^2 < 0 \end{aligned} \right\} \Rightarrow 0 < d < 1$$

$$\left. \begin{aligned} g(0,6) &\approx 0,34 > 0 \\ g(0,7) &\approx -0,62 < 0 \end{aligned} \right\} \Rightarrow 0,6 < d < 0,7$$

D'où: tableau de variations de  $f$ :

$x$	$-\infty$	0,6	$d$	0,7	$+\infty$
$f'(x) = g(x)$		+	0	-	
$f$			$f(d)$ MAX		

$(f(d) \approx 1,3)$



### Question 7 (2p.)

6/7

\* tableau de variations d'une primitive de  $f_1$ :

x	$-\infty$	0	$+\infty$
$f_1(x)$	+	0	-
F		→ MAX	

D'après ce tableau de variations, F peut être  $F_4$  ou  $F_5$ .

Comme  $f_1$  est définie par  $f_1(x) = ax$  ( $a \neq 0$ ), F est une fonction polynôme du 2<sup>nd</sup> degré et sa représentation graphique est une parabole.

$F_5$  est donc une primitive de  $f_1$ .

\* On a un tableau de variations analogue pour une primitive de  $f_3$ .

$F_4$  doit donc être une primitive de  $f_3$ .

\* Par conséquent,  $F_6$  est une primitive de  $f_2$ .

### Question 8 (3 + 1 = 4p.)

$$1) I + J = \int_0^{\pi/8} \frac{\cos 2x + \sin 2x}{\sin 2x + \cos 2x} dx = \int_0^{\pi/8} 1 dx = [x]_0^{\pi/8} = \frac{\pi}{8}$$

$$\begin{aligned} I - J &= \int_0^{\pi/8} \frac{\cos 2x - \sin 2x}{\sin 2x + \cos 2x} dx = \frac{1}{2} \int_0^{\pi/8} \frac{2\cos 2x - 2\sin 2x}{\sin 2x + \cos 2x} dx \\ &= \frac{1}{2} \left[ \ln |\sin 2x + \cos 2x| \right]_0^{\pi/8} \\ &= \frac{1}{2} \left[ \ln \left( \sin \frac{\pi}{4} + \cos \frac{\pi}{4} \right) - \ln (\sin 0 + \cos 0) \right] \\ &= \frac{1}{2} \left( \ln \sqrt{2} - \frac{\ln 1}{0} \right) \\ &= \frac{1}{4} \ln 2 \end{aligned}$$

$$2) \begin{cases} I + J = \frac{\pi}{8} & (1) \\ I - J = \frac{1}{4} \ln 2 & (2) \end{cases}$$

$$(1) + (2): 2I = \frac{\pi}{8} + \frac{1}{4} \ln 2 \Leftrightarrow \underline{I = \frac{\pi}{16} + \frac{1}{8} \ln 2}$$

$$(1) - (2): 2J = \frac{\pi}{8} - \frac{1}{4} \ln 2 \Leftrightarrow \underline{J = \frac{\pi}{16} - \frac{1}{8} \ln 2}$$



Question 9 (4p.)

7/7

$$K = \int_0^{-\pi} e^{-x/2} \sin x \, dx$$

Posons:  $u(x) = \sin x \quad v'(x) = e^{-x/2}$   
 $u'(x) = \cos x \quad v(x) = -2e^{-x/2}$

$$= [-2e^{-x/2} \sin x]_0^{-\pi} + 2 \int_0^{-\pi} e^{-x/2} \cos x \, dx$$

$$= 0 + 2 \int_0^{-\pi} e^{-x/2} \cos x \, dx$$

$$= 2 \left( [-2e^{-x/2} \cos x]_0^{-\pi} - 2 \underbrace{\int_0^{-\pi} e^{-x/2} \sin x \, dx}_K \right)$$

Posons:  $u_1(x) = \cos x \quad v_1'(x) = e^{-x/2}$   
 $u_1'(x) = -\sin x \quad v_1(x) = -2e^{-x/2}$

D'où:  $K = -4(-e^{\pi/2} - 1) - 4K$

$\Leftrightarrow 5K = 4(e^{\pi/2} + 1)$

$\Leftrightarrow \underline{K = \frac{4}{5}(e^{\pi/2} + 1)}$

Question 10 (3+4=7p.)

$$1) \begin{array}{r} x^2 + 2x \quad | \quad -x+3 \\ -x^2 + 3x \quad | \quad -x-5 \\ \hline 5x \\ -5x+15 \\ \hline 15 \end{array}$$

$\forall x \in ]-\infty; 3[ : f(x) = -x-5 + \frac{15}{3-x}$

D'où:  $\begin{cases} a = -1 \\ b = -5 \\ c = 15 \end{cases}$

$\forall x \in ]-\infty; 3[ : F(x) = -\frac{1}{2}x^2 - 5x - 15 \ln |3-x| = -\frac{1}{2}x^2 - 5x - 15 \ln(3-x)$

2) Aire du domaine gris:

$$A = - \int_{-1}^2 g(x) \, dx$$

$$= \int_{-1}^2 (x+1) \ln(3-x) \, dx$$

Posons:  $u(x) = \ln(3-x) \quad v'(x) = x+1$   
 $u'(x) = \frac{-1}{3-x} \quad v(x) = \frac{x^2}{2} + x$

$$= \left[ \left( \frac{x^2}{2} + x \right) \ln(3-x) \right]_{-1}^2 + \int_{-1}^2 \frac{\frac{x^2}{2} + x}{3-x} \, dx$$

$$= 0 - \left( -\frac{1}{2} \right) \ln 4 + \frac{1}{2} \int_{-1}^2 \frac{x^2 + 2x}{3-x} \, dx$$

$$= \ln 2 + \frac{1}{2} \left[ -\frac{1}{2}x^2 - 5x - 15 \ln(3-x) \right]_{-1}^2$$

$$= \ln 2 + \frac{1}{2} (-2 - 10 + \frac{1}{2} - 5 + 15 \ln 4)$$

$$= 16 \ln 2 - \frac{33}{4}$$

$\approx 2,84 \text{ u.a.}$



